


ACTIVIDADES DE REPASO
EDUCACIÓN PRIMARIA
Ciclo Escolar 2017-2018

MATEMÁTICAS 1°	BLOQUE I
----------------	----------



1.- Escribe en la playera de cada niño los números del 1 al 6, empieza con el de la izquierda.



2.- En el siguiente dibujo encierra en círculos todos los números que encuentres y contesta lo que se te pide.



¿Cuántos autos hay en la imagen? ____ ¿Cuántos panes hay en la vitrina de la panadería? ____.

3.- Dibuja en el pastel una vela por cada año que tengas.



4.- Cuenta las manzanas y escribe el número que corresponda dentro del recuadro.



Hay ___ manzanas

5.- Cuenta los animales y escribe el número que corresponda dentro del recuadro.



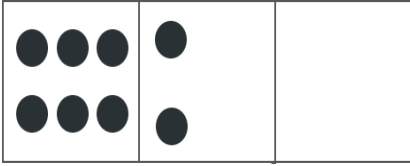
Hay _____ animales

6.- Dibuja los animales que faltan para que en cada granja haya la misma cantidad.




7.-Dibuja los puntos en los cuadros vacíos para completar el número que se indica.

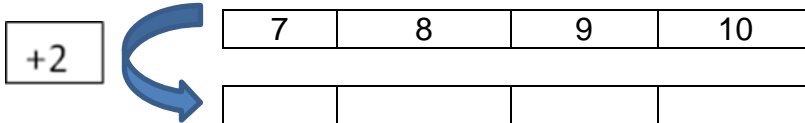
El número **14**



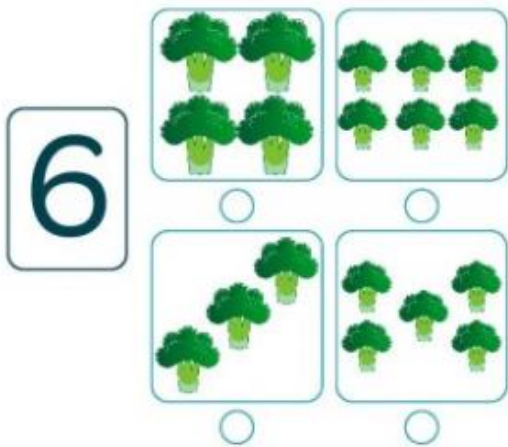
El número **9**



8.-Realiza el siguiente ejercicio sumándole 2 a cada número.



Señala con una X el cuadro donde el número de árboles es 6.



Ya conoces los números del 1 al 24, escribe aquí los que faltan:

1			4	5		7	
9		11			14		16
	18		20		22		24

Los números los encuentras en todos lados, por ejemplo en el teléfono. Menciona dos lugares más dónde puedes encontrar números: _____ y _____

¿Quieres saber más o tienes alguna duda?, comunícate a